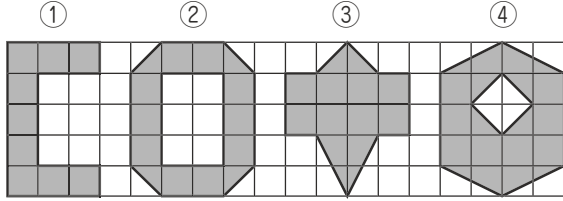


**4年生の問題** (1・2・3月) (たしかめはソロバンでやろう)

1. 下の図で、ほうがんの1目もりを1cmとすると、こい部分の面積を出しましょう。

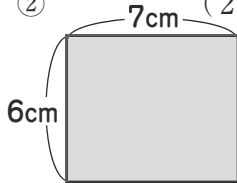
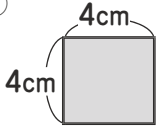
(3点×4)



- ① ( )      ② ( )  
 ③ ( )      ④ ( )

2. 下の長方形や正方形の面積を出しましょう。

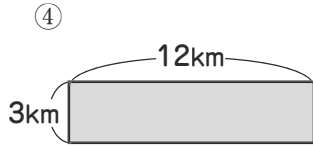
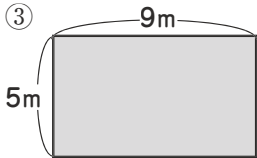
①      ② (2点×12)



(式)

(式)

答え ( )      答え ( )



(式)

(式)

答え ( )      答え ( )

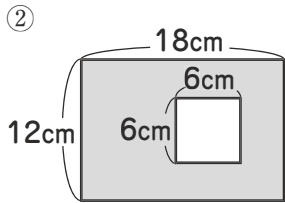
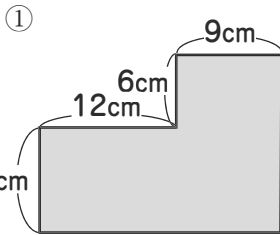
⑤ たてが12cm、横が7cmの長方形。      ⑥ 1辺が15mの正方形。

(式)

(式)

答え ( )      答え ( )

3. こい部分の面積を出しましょう。(3点×4)



(式)

(式)

答え ( )      答え ( )

4. 表を見て問題に答えましょう。(2点×2)

この表はろうそくに火をつけてからの時間とろうそくののこりの長さを書いた表です。

- ① ろうそくは1分間に何cmもえますか。 ( )  
 ② ろうそくは初め何cmでしたか。 ( )

5. 次の計算をしましょう。(3点×8)

- ①  $0.2 \times 6 =$       ②  $0.7 \times 9 =$   
 ③  $3.7 \times 6$       ④  $12.3 \times 8$       ⑤  $0.4 \times 5$   
 ⑥  $18.9 \times 7$       ⑦  $2.4 \times 25$       ⑧  $3.5 \times 42$

6. 次の文章題を式を立ててときましょう。

(2点×3)

歯をみがくとき、水を流したままにすると、1回で11.4ℓの水がむだになります。1日に3回みがくと1週間では何ℓの水がむだになりますか。

(式) (筆算)

答え ( )

7. 次の計算をしましょう。(3点×6)

- ①  $4.8 \div 4 =$       ②  $9.6 \div 3 =$

- ③  $4 \overline{) 9.6}$       ④  $9 \overline{) 84.6}$

(商は一の位まで求め、あまりも出しましょう。)

- ⑤  $23 \overline{) 50.4}$       ⑥  $16 \overline{) 35.8}$

### 3年の問題解答

1. ① 2320 ② 4200 ③ 1992 ④ 5640  
⑤ 5040 ⑥ 13803 ⑦ 84351 ⑧ 28240

2. (文の問題)

1個48円のミカンを25個買いました。みんな  
でいくらですか。 等  
(答え) 1200円

3.  $51 \times 3 = 153$

4. ① 535 g ② 3kg 200 g

5. ①  $\frac{3}{4} \ell$  ②  $\frac{2}{5} \ell$  ③  $1\frac{1}{3} \ell$

6. ア  $\frac{2}{5}$  イ  $\frac{1}{3}$  ウ  $1\frac{2}{3}$

7. ① 12 ② 1 ③ 1  
④  $1\frac{1}{3}$  ⑤  $1\frac{1}{3}$  ( $1\frac{1}{3}$ )

8. (式)  $10 \times 3 \times 2 = 60$   
(答え) 60ページ

9. ① 664 ② 825 ③ 520 ④ 534 ⑤ 405  
⑥ 444 ⑦ 235 ⑧ 290

### 4年の問題解答

1. ①  $9 \text{ cm}^2$  ②  $12 \text{ cm}^2$  ③  $11 \text{ cm}^2$  ④  $14 \text{ cm}^2$

2. ①  $4 \times 4 = 16$  ( $16 \text{ cm}^2$ )  
②  $6 \times 7 = 42$  ( $42 \text{ cm}^2$ )  
③  $5 \times 9 = 45$  ( $45 \text{ m}^2$ )  
④  $3 \times 12 = 36$  ( $36 \text{ km}^2$ )  
⑤  $12 \times 7 = 84$  ( $84 \text{ cm}^2$ )  
⑥  $15 \times 15 = 225$  ( $225 \text{ m}^2$ )

3. ①  $6 \times 9 + 9 \times (12 + 9) = 243$   
答え ( $243 \text{ cm}^2$ )  
②  $12 \times 18 - 6 \times 6 = 180$   
答え ( $180 \text{ cm}^2$ )

4. ① 0.6cm ②  $9.6 + 0.6 \times 4 = 12$  (cm)

5. ① 1.2 ② 6.3 ③ 22.2 ④ 98.4  
⑤ 2 ⑥ 132.3 ⑦ 60 ⑧ 147

6.  $11.4 \times 3 \times 7 = 239.4$  答え ( $239.4 \ell$ )

7. ① 1.2 ② 3.2 ③ 2.4 ④ 9.4  
⑤ 2あまり4.4 ⑥ 2あまり3.8