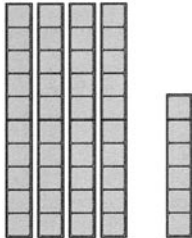
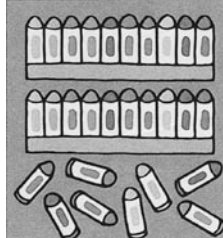


1年生の問題 (1・2・3月)

1. かずを かぞえましょう。

① 

十のくらい	一のくらい

② 

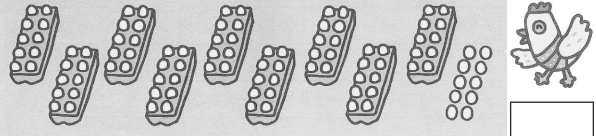
十のくらい	一のくらい

③ えんぴつは なんぼん ありますか。



十のくらい	一のくらい

④ たまごは なんこ ありますか。



	こ
--	---

2. □に かずを かきましょう。

① 10が 6こと 1が 2こで

② 10が 7こで

③ 十のくらいが 5、一のくらいが 4のかずは、

④ 48の 十のくらいの すうじは、
一のくらいの すうじは、

⑤ 10が10こで、

⑥ 100より、1ちいさい かずは、

⑦ 50と 30を あわせて、

⑧ $30 + 70 =$

⑨ 100は、20と

⑩ 100と16で、

3. □に かずを かきましょう。

①

	99	98		96			93	92
--	----	----	--	----	--	--	----	----

②

10	20		40		60			90
----	----	--	----	--	----	--	--	----

4. かずを よみましょう。

90 91 92 93 94 95 96 97
98 99 100 101 102 103 104 105 106
107 108 109 110 111 112 113 114 115
116 117 118 119 120

5. おおきいかずに ○を かきましょう。

① 38 42 ② 50 47

③ 68 86 ④ 98 89


6. つぎの けいさんを しましょう。

① $50 + 20 =$ ② $40 + 60 =$

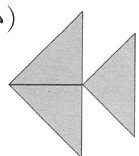
③ $60 - 20 =$ ④ $100 - 80 =$

⑤ $30 + 5 =$ ⑥ $7 + 80 =$

⑦ $73 - 3 =$ ⑧ $98 - 90 =$


7.  の いろいたを つかって、いろいろなかたちをつくりました。どういうふうにならべましたか。れいをみて、せんをかきましよう。

(れい)




3 まい

①




まい

②



まい

③



まい