


1年生の問題 (6・7月)

1. しきに かいて、こたえを だしましょう。

① あわせて なんびきでしょう。



$$\square + \square = \square$$

こたえ( )


② ぜんぶで なんさつでしょう。



(しき)

こたえ( )

③ ふえると いくつでしょう。



(しき)

こたえ( )

2. たしざんを しましょう。

- ①  $2 + 6 =$                       ②  $5 + 4 =$   
 ③  $4 + 6$                           ④  $7 + 0$

3. しきに かいて、こたえを だしましょう。


① 3にん かえると、のこりは なんにんでしょう。



7人

$$\square - \square = \square$$

② くじが 10ほん あります。あたりが 4ほん はいっています。はずれは なんほんでしょう。



(しき)

こたえ( )

③ どちらが なんこ おおいでしょう。

りんご	
みかん	

(しき)

こたえ(            が            こ おおい)

4. ひきざんを しましょう。

- ①  $8 - 4 =$                       ②  $10 - 6 =$   
 ③  $9 - 9$                         ④  $9 - 2$