


なまえ

2年生の問題 (4・5月)

1. ぼうで作ったましかくが、4つあります。

1本とりのぞくと、ましかくが3つになります。とるぼうに×をつけましょう。




2. 下の時こくをよみましょう。

(1)



() ()

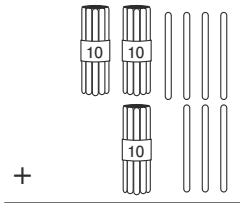
(2)



3. 計算をあん算でやりましょう。

① $24 + 13 =$

② $25 + 4 =$



③ $70 + 27 =$

こたえ()

4. つぎの計算をひっ算でやりましょう。

① $48 + 14$

② $74 + 16$

③ $9 + 38$

④ $28 + 63$

5. クッキーがかに 46まい、ふくろに 18まいあります。あわせてなんまいでしょう。(ひっ算)

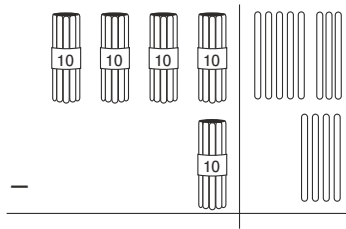
(しき)

こたえ()

7. 下のひき算をあん算でやりましょう。

① $48 - 14 =$

② $96 - 51 =$



③ $77 - 7 =$

8. つぎのひき算をひっ算でしましょう。

① $51 - 17$

② $34 - 17$

③ $50 - 48$

④ $80 - 6$

9. あめを40こもっています。おとうとに17こあげると、なんこのこるでしょう。(しき) (ひっ算)

10. $92 - 37$ のこたえをつぎのように、たしかめましょう。

92

かくす

-37

-37

55

$+55$

たしかめのこたえ()

ひかれる数をかくして、ひく数とこたえをたして、たしかめよう。