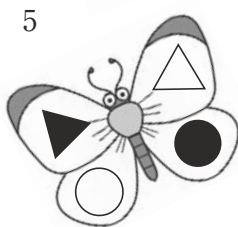
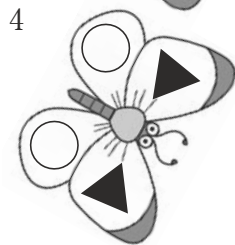
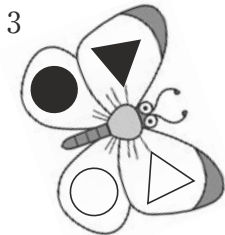
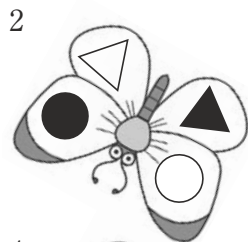
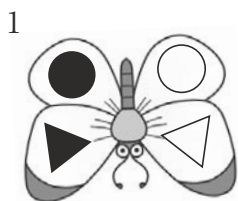
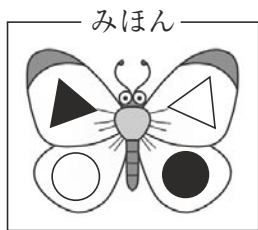


1年生の問題 (4・5月)

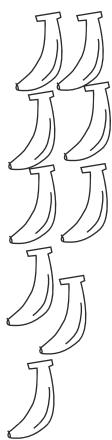
1. みほんの ちょうと おなじ ちょうは どれかな。




こたえ

2. どの くだものが いちばん おおいかな

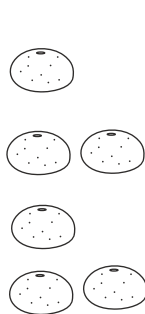
1.



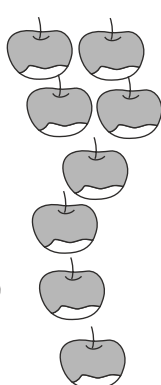
2.



3.



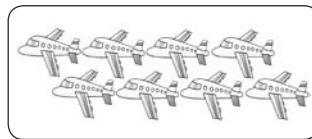
4.




こたえ

3. いくつ あるか かぞえて、すうじで かき ましょう。

(1)




(2)




4. いろを ぬりましよう。

(1) ひだりから 5つの りんご (ぜんぶ)。



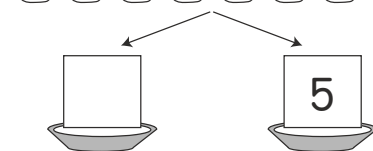
(2) ひだりから 5ばんめの りんご。



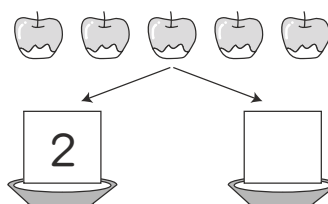
5. りんごを 2つの いれものに わけまし た。

いくつと いくつに わけられた でしょう。

(1)

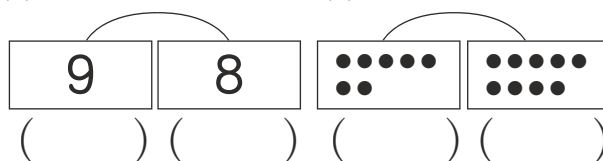


(2)



6. かずが おおきい ほうに ○を つけましよう。

(1)



(2)

